

## TET – 1 EXAM-2018માં ઉપસ્થિત થયેલ પરીક્ષાર્થીઓ માટેની અગત્યની સૂચના

- તા.04-03-2018 ના રોજ લેવામાં આવેલ TET – 1 EXAM - 2018 માં ઉપસ્થિત રહેલા ઉમેદવારોને જણાવવાનું કે આ પરીક્ષાની પ્રોવિઝનલ આન્સર કી આજરોજ તા.06/03/2018 નાં રોજ પ્રસિદ્ધ કરવામાં આવેલ છે. આ પરીક્ષાના પ્રશ્નપેપરના કોઈ પ્રશ્ન/પ્રોવિઝનલ આન્સર કીનાં ઉત્તર સામે રજૂઆત કરવા માગતા હોય તો આ સાથે સામેલ રાખેલ નિયત પત્રકમાં તમામ વિગતો ભરીને જરૂરી માન્ય આધારોને સ્કેન કરી તેની Zip File બનાવી તેને રીનેમ કરી, તેમાં બેઠક ક્રમાંક લખી, તારીખ 06-03-2018 ના રોજ બપોરના 12.30 કલાક થી આ કચેરીની વેબ સાઈટ (<http://gujarat-education.gov.in/seb/>) પર આપેલ લીંક પર અપલોડ કરીને મોકલી આપવાની રહેશે.
- જો એક કરતાં વધુ પ્રશ્નો અંગે રજૂઆત કરવાની હોય તો પ્રશ્ન દીઠ અલગ-અલગ પત્રકમાં રજૂઆત કરવાની રહેશે.
- રજૂઆત મોકલવાનો સમયગાળો :  
તા.06/03/2018(12:30:00 કલાક) થી તા.10/03/2018(23:59:59 કલાક) સુધી
- જે પ્રશ્નના ઉત્તર અંગે રજૂઆત કરવી હોય તેના આધાર માટે રજુ કરવામાં આવતું પુસ્તક સરકાર દ્વારા પ્રકાશિત થયેલું હોવું જોઈએ, એટલે કે કોઈ ખાનગી પ્રકાશનો દ્વારા પ્રકાશિત થયેલ પુસ્તકો/સાહિત્ય આધાર તરીકે માન્ય રહેશે નહીં.
- આધારો વગરની રજૂઆત ધ્યાને લેવામાં આવશે નહીં.
- નિયત સમય મર્યાદામાં (તા. 10/03/2018 સુધી) વેબ સાઈટ પર આપેલ લીંક પર મોકલવામાં આવેલી રજૂઆતો જ ધ્યાને લેવામાં આવશે.
- નિયત સમય મર્યાદામાં મળેલ રજૂઆતો તજજ્ઞ સમિતિ સમક્ષ રજુ કરવામાં આવશે. તજજ્ઞ સમિતિ દ્વારા થયેલ ભલામણ અનુસાર જરૂરી કાર્યવાહી કરવામાં આવશે.
- આ પરીક્ષામાં ઉપસ્થિત થયેલ હોય તેવા ઉમેદવારો જ આ પ્રકારની રજૂઆત કરી શકશે. જેની ખાસ નોંધ લેવી.**



(ડી.આર.સરડવા)  
સચિવ  
રાજ્ય પરીક્ષા બોર્ડ  
ગાંધીનગર

**પ્રશ્નપેપરનાં કોઈ પ્રશ્ન કે પ્રોવિઝનલ આન્સર કી નાં જવાબ અંગે  
રજૂઆત કરવા માટેનું પત્રક**

(1) પરીક્ષાનું નામ	TET – 1 EXAM 2018	(2) પરીક્ષાર્થીનો સીટ નંબર													
(3) ઉમેદવારનું નામ															
(4) ઉમેદવારનું ઈ-મેઇલ એડ્રેસ											(5) ઉમેદવારનો મોબાઇલ નંબર				
<b>રજૂઆતની વિગતો</b>															
(6) પ્રશ્નપુસ્તિકા સેટ નંબર			(7) પ્રશ્નપુસ્તિકા નંબર												
(8) પ્રશ્ન નંબર	(9) પ્રશ્નની વિગત														
(10) પ્રશ્નનાં ઉત્તરનાં વિકલ્પો	(A)														
	(B)														
	(C)														
	(D)														
(11) પ્રોવિઝનલ આન્સર કી માં દર્શાવેલ ઉત્તરનો વિકલ્પ (A,B,C,D પૈકી)															
(12) ઉમેદવારની પ્રશ્ન/જવાબ અંગેની ટૂંકમાં રજૂઆત															
<b>(13) રજૂઆતના સમર્થનમાં રજૂ કરેલ સરકાર દ્વારા પ્રકાશિત આધારોની વિગત</b>															
પુસ્તકનું નામ															
પ્રકાશકનું નામ															
આવૃત્તિનું વર્ષ					પેઈજ નંબર					ફકરા/લીટી નંબર					

- **નોંધ:** ઉપરોક્ત ક્રમ નંબર-13માં દર્શાવેલ વિગતોનાં આધારો સ્કેન કરીને મોકલવા આવશ્યક અને જરૂરી છે.  
(માત્ર રજૂઆત ને લગત ૧ કે ૨ પેજ ના આધારો અપલોડ કરવા) આ આધારો વગરની રજૂઆત ધ્યાને લેવામાં આવશે નહીં. જેની સ્પષ્ટ નોંધ લેવી.

STATE EXAMINATION BOARD - GANDHINAGAR

TET-I EXAM-2018 (Exam Date : 04-03-2018) Provisional Answer Key (Publish Date : 06-03-2018)

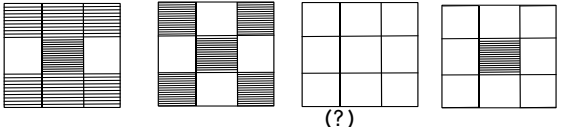
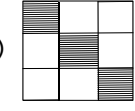
(GUJ.Med.)

No.	પ્રશ્ન	જવાબ
1	“તંદુરસ્ત શરીરમાં મનનું ઘડતર કરે તે કેળવણી.”- આ વિધાન નીચેનામાંથી કોનું છે ?	(C) એરિસ્ટોટલ
2	‘બાળક ધરનું હુંફાળું વાતાવરણ છોડી શાળાએ આવે છે ત્યારે અસહાયપણું અનુભવે છે.’ આ વિધાનના સંદર્ભમાં એક શિક્ષક તરીકે તમે શું કરશો ?	(A) બાળક સાથે પ્રેમપૂર્વક અને લાગણીથી કામ પાર પાડીશ.
3	નૂતન કેળવણીના પિતા તરીકે કોને ઓળખવામાં આવે છે ?	(D) રુસો
4	શૈક્ષણિક અનુભવોનું સંગઠન એટલે....	(B) અભ્યાસક્રમ
5	કેળવણીનાં ધ્યેયો પૈકી નીચેનામાંથી કયા ધ્યેયનો સમાવેશ વ્યક્તિગત ધ્યેયો અંતર્ગત થતો નથી ?	(B) ઉત્પાદક કાર્યમાં કૌશલ્ય
6	નીચેનામાંથી કયું પરિબલ બાળકના સર્વાંગી વિકાસને અસર કરતું નથી ?	(D) આબોહવા
7	નીચેનામાંથી કઈ કસોટી શાબ્દિક સમૂહ કસોટી નથી ?	(B) સમાનાર્થી-વિરુદ્ધાર્થી શબ્દો આપવા
8	ક્રિકેટર થવાના સ્વપ્ન સેવતી વ્યક્તિ બીજા સારા ક્રિકેટરની રમત જોઈ અન્યની સફળતાને પોતાની મહેનતનું સારું પરિણામ મેળવ્યું હોય તેવા ઉત્સાહ સાથે બડાઈ હાંકે છે. - આ કઈ બચાવ પ્રયુક્તિનું ઉદાહરણ છે ?	(D) તાદાત્મ્ય
9	નિબંધલક્ષી પ્રશ્નના સંદર્ભમાં નીચેના પૈકી કયું સાચું નથી ?	(D) ભાષાના પ્રવાહિતા કૌશલ્યની ચકાસણી થઈ શકતી નથી.
10	શાળાકીય સર્વગ્રાહી મૂલ્યાંકન અંતર્ગત પત્રક-E એટલે...	(B) સર્વગ્રાહી વિકાસાત્મક સંગૃહિત પ્રગતિપત્રક
11	સામાજિક અધ્યયનનો સિદ્ધાંત કયા મનોવૈજ્ઞાનિકે આપ્યો છે ?	(C) આલ્બર્ટ બાન્ફુરા
12	પ્રત્યાયનના ઘટકો પૈકી પ્રથમ ઘટક કયો છે ?	(B) પ્રેષક
13	મનુષ્ય પ્રકૃતિના સંદર્ભમાં મેગડુગલે કેટલી કેટલી સહજવૃત્તિઓ દર્શાવી છે ?	(A) 18
14	નીચે આપેલ લાક્ષણિકતાઓ પૈકી કઈ લાક્ષણિકતા નવી રાષ્ટ્રીય શિક્ષણ નીતિ - 1986ની નથી ?	(B) રાષ્ટ્ર વ્યાપી એકસરખું મૂલ્યાંકન માળખું
15	માઈકો ટીચિંગની સૌ પ્રથમ વ્યાખ્યા ઇ.સ. 1968 માં કોણે આપી હતી ?	(C) એલન અને ઇવ
16	“દરેક બાળકોનું સ્વતંત્ર વ્યક્તિત્વ છે. શિક્ષકે બાળકોના ‘સ્વ’ ને, સ્વતંત્ર વ્યક્તિત્વને પિછાણીને શિક્ષણનું આયોજન કરવું જોઈએ.” - આ શિક્ષણ દર્શન કોનું છે ?	(D) ગિજુભાઈ બધેકા
17	અબ્રાહમ મેસ્લોના જરૂરિયાતના શ્રેણીક્રમમાં ચોથા ક્રમે કઈ જરૂરિયાત આવે છે ?	(C) આત્મગૌરવની જરૂરિયાત
18	સમાવેશી શિક્ષણ (Inclusive Education) એટલે....	(C) એક જ શાળા પરિસરમાં સામાન્ય બાળકોની સાથે વિશિષ્ટ સમૂહનાં બાળકોને શિક્ષણ આપવું
19	GIET ના ચેરમેન તરીકે કોણ ફરજ બજાવે છે ?	(B) શિક્ષણ વિભાગના સચિવ
20	NCERT નું વડુ મથક કયાં આવેલું છે ?	(D) નવી દિલ્હી
21	બુદ્ધિ એટલે વસ્તુને જાણવાની ચિત્તની આકલન કે સમજ શક્તિ. - આ વિધાન કોનું છે ?	(B) સાર્થ ગુજરાતી જોડણીકોશ
22	કયા પ્રકારની મનોવિકૃત્તિમાં બાળક વાક્યોનું પુનઃ ઉચ્ચારણ અવારનવાર કર્યા કરે છે ?	(D) ઓટિઝમ
23	પાવલોવના અભિસંધાનના પ્રયોગમાં પ્રબલન તરીકે શું છે ?	(B) ખોરાક
24	બહુવિધ બુદ્ધિનો સિદ્ધાંત કયા મનોવૈજ્ઞાનિકે આપ્યો છે ?	(A) હાવર્ડ ગાર્ડનર
25	બાળક આક્રમક વલણ અપનાવે છે. શિક્ષક તરીકે તમે શું કરશો ?	(D) બાળકના આક્રમક વલણનું કારણ જાણીશ.
26	શિક્ષકનું વર્તન અને વ્યવહાર આદર્શ હોવાં જોઈએ કારણ કે...	(C) વિદ્યાર્થીઓ શિક્ષકને અનુકરણીય માને છે.

No.	પ્રશ્ન	જવાબ
27	લગ્ન કરવા છે પરંતુ લગ્ન સાથે જોડાયેલી જવાબદારીઓનું વહન કરવું પસંદ નથી. આ સમયે વ્યક્તિ કયા પ્રકારનો સંઘર્ષ અનુભવે છે ?	(C) અભિગમન-વિગમન સંઘર્ષ
28	કોઈ વિદ્યાર્થી શિક્ષકને જાણ કર્યા વગર લાંબો સમય ગેરહાજર રહે છે. શિક્ષક તરીકે તમે શું કરશો ?	(D) વાલીને બાબતના ગેરહાજર રહ્યાની જાણ કરીશ
29	સીમાવર્તીય બુદ્ધિ ધરાવતા બાળકોનો બુદ્ધિ આંક કેટલો હોય છે ?	(C) 70 થી 79
30	વિદ્યાર્થીઓમાં મુખ્ય શિક્ષક, શિક્ષક અને શાળા પ્રત્યે નફરત જાગે છે. આ માટે કયા પ્રકારની શિસ્તને જવાબદાર ગણાવી શકાય ?	(A) દમનયુક્ત શિસ્ત
31	આપેલ વ્યંજનોમાં કયો વ્યંજન 'અનુનાસિક વ્યંજન' છે ?	(C) ણ્
32	સંયુક્તાક્ષરના સંદર્ભમાં સાચો વિકલ્પ કયો છે ?	(B) જ્ + ઝ્ = જ્ઞ
33	સાચી જોડણી કઈ છે ?	(B) અગસ્ત્ય
34	આપેલ શબ્દોમાં કયો શબ્દ 'સંજ્ઞા' છે ?	(A) ઊણપ
35	આપેલ વાક્યોમાં શુદ્ધ વાક્ય કયું છે ?	(C) મારી સરતચૂકથી તમને આમંત્રણ આપવાનું રહી ગયું.
36	અશુદ્ધ શબ્દ કયો છે ?	(A) નિદ્રા
37	વિરામચિહ્નોનો સાચો ઉપયોગ થયો હોય તેવું વિધાન શોધો.	(C) રામ બોલ્યા, " પિતાની આજ્ઞા હું માથે ચડાવું છું. "
38	શબ્દકોશ ક્રમ મુજબ સાચો વિકલ્પ કયો છે ?	(B) ક્ષમા, જમાનો, જ્ઞાની, ટપાલી
39	ભાષાકીય રીતે શુદ્ધ શબ્દ કયો છે ?	(D) અંતર્ધાન
40	'મિજાજ તરડાવો' રૂઢિપ્રયોગનો અર્થ શું થાય ?	(D) અભિમાન થવું.
41	વાક્યમાં રેખાંકિત પદ યોગ્ય રીતે વપરાયું હોય તેવું વિધાન કયું છે ?	(C) સૂર્ય એ ઉર્જાનો અખૂટ સ્ત્રોત છે.
42	આપેલ શબ્દોમાં 'સ્ત્રીલિંગ' શબ્દ કયો છે ?	(A) ઈબાદત
43	અર્થની દૃષ્ટિએ જુદો પડતો શબ્દ શોધો.	(D) આલેશાન
44	સમાનાર્થી જોડ સાચી ન હોય તેવો વિકલ્પ કયો છે ?	(A) ઓજશ - પ્રતિભા
45	આપેલ શબ્દોમાં કયો શબ્દ 'ક્રિયાપદ' છે ?	(A) હતો
46	ગુજરાતી ભાષા શિક્ષણનો પ્રથમ હેતુ કયો છે ?	(D) અર્થગ્રહણ
47	'અધ્યેતા શબ્દકોશનો ક્રમ અને આશરે 1500 જેટલા શબ્દો જાણે અને સમજે.' - આ અધ્યયન નિષ્પત્તિ કયા હેતુ આધારિત છે ?	(A) અર્થગ્રહણ
48	'પ્રવૃત્તિ દ્વારા શિક્ષણ' નાં ક્રમશઃ સોપનો મુજબ સાચો વિકલ્પ કયો છે ?	(C) અનુભવ, ચિંતન, ઉપયોજન, સંકલન
49	કવિતા એ _____ છે.	(B) કાનની કળા
50	વાચનનું મૂલ્યાંકન કરતી વખતે ધ્યાનમાં રાખવા જેવી બાબત કઈ છે ?	(A) વિરામચિહ્નોનો ખ્યાલ
51	વાચનના મૂલ્યાંકન માટે ઉપયોગી સાધન કયું છે ?	(A) ચેકલીસ્ટ
52	ઓછા સમયમાં વધુ ઝડપથી વાંચી શકાય છે....	(B) મૂક વાચન
53	વ્યાકરણ શિક્ષણને ગમ્મત સાથે સમજાવવાની રીત એટલે...	(C) ચિટ્ટી દ્વારા શિક્ષણ
54	વ્યાકરણ શિક્ષણમાં ઉદાહરણની મદદથી સામાન્ય નિયમો તારવવાની ક્રિયા એટલે...	(D) આગમન પદ્ધતિ
55	સર્જનાત્મક લેખન વખતે શિક્ષકે કરવા યોગ્ય સૌથી મહત્વની બાબત કઈ છે ?	(A) લેખનકાર્ય અંગે વર્ગમાં વાતાવરણ નિર્માણ કરવું.
56	પાઠ્યપુસ્તકનું સ્વરૂપ અને ઉપયોગના માર્ગદર્શન માટે નીચે પૈકી શું મદદરૂપ બનશે ?	(D) શિક્ષક નિદર્શિની
57	વિદ્યાર્થીઓના લેખનકાર્યની ભૂલ સુધારવાનું કાર્ય વધુ અસરકારક ત્યારે બની શકે જ્યારે શિક્ષક....	(C) લેખન તપાસણીની સંજ્ઞાઓનો ઉપયોગ કરી ભૂલ નિર્દેશ કરે; જેના આધારે વિદ્યાર્થી સુધારકાર્ય કરે.

No.	પ્રશ્ન	જવાબ
58	અક્ષર સુધારણા માટે નીચે જણાવેલ લેખન પૈકી કયા લેખનનો મહાવરો વધુ કરાવવો જોઈએ ?	(C) અનુલેખન
59	ભાષા શિક્ષણના મુખ્ય હેતુઓ પૈકી ' સર્જનાત્મકતા ' હેતુમાં નીચે જણાવેલ પૈકી કઈ બાબતનો સમાવેશ થતો નથી ?	(B) સારી-નરસી બાબતો અંગે ચિંતન કરી યોગ્ય નિર્ણય લે.
60	સ્વતંત્ર લેખનમાં સમાવેશ ન થતો હોય તેવી કઈ બાબત છે ?	(D) અનુલેખન કરવું.
61	કયો સાહિત્ય પ્રકાર ભણાવતી વખતે મુખવાચન પર વધુ ધ્યાન આપવું જોઈએ ?	(C) એકાંકી
62	Many students tried, but they failed to solve this sum. Here the underlined word : ' they failed ' means.....	(C) They were unsuccessful.
63	Find out correct spelling :	(B) Trouble
64	Students of Vivekanand Vidyalaya hopped to visit Saputara. Find out synonym of the underlined word.	(B) Wanted
65	Find out correct spelling :	(A) competition
66	Arrange the following words in correct order to make a correct sentence. A. best B. batsmen C. Sachin and Sehwag D. are	(C) CDAB
67	Mr. Pravinbhai Suthar is the host of the contest. Select correct antonym for the underlined word.	(A) Guest
68	_____ expert is _____ English teacher. Select proper pair of article.	(B) The, an
69	Find out improper chain of degree words :	(C) beautiful – more beautiful – best beautiful
70	Maheshwari and Durgaben visited a village fair _____ Vaodara and Ahmedabad. Select proper preposition.	(B) between
71	Arrange the following words in a dictionary order. 1. Count 2. Coins 3. Court 4. Courtier	(B) 2,1,3,4
72	Traffic police blew the whistle, _____ ? Find out proper question tag.	(D) didn't he
73	Find out the correct plural word of 'Knife'.	(C) Knives
74	The spelling of ' 40 ' is .....	(D) forty
75	Which one is the productive skill of the following ?	(D) Writing
76	Which of the following skill is also called an active receptive skill ?	(B) Listening
77	At the starting phase of oral work, we must focus on _____.	(C) fluency
78	The main objective of telling a story in the classroom is _____	(C) listening
79	At ten o'clock, Munni goes to school. Make a question using the word – 'When'.	(D) When does Munni go to school ?
80	Which one of the following is an objective of English language teaching ?	(B) Expression
81	Which thing is important for English language teaching at starting phase ?	(C) Too much practice of listening.
82	They play with a ball in the garden. Make a question using the word – ' where '.	(C) Where do they play with a ball ?
83	Tejasvini's bicycle has a soft seat. Find out the antonym of the word ' soft '	(A) Hard
84	The king set three difficult tests for princes. _____ tests did the king set for princes ? Select proper question word.	(C) How many
85	A person who keeps the record of points in a quiz is called...	(C) Scorer

No.	પ્રશ્ન	જવાબ
86	Which word can't be made by using letters of the word- ' Innovations ' ?	(C) Invocations
87	Find out unmatched pair of synonyms.	(C) Strong - hard
88	Vandevi grants babool's wish. Choose proper synonym for the underlined word.	(C) permits
89	The leaves of the babool tree changed into golden leaves. Here the word – ' changed into ' means...	(B) turned into
90	A knowledgeable person is also called....	(D) an expert
91	એક સંખ્યાનો $\frac{4}{5}$ ભાગ 64 થાય તો તે સંખ્યાનું અડધું કેટલું ?	(C) 40
92	બે ક્રમિક સંખ્યાનો લ.સા.અ. કેટલો થાય ?	(B) બંનેના ગુણાકાર જેટલો
93	કઇ સંખ્યામાંથી 8 બાદ કરી, પછી 8 વડે ગુણતા 8 મળે ?	(D) 9
94	$1136 \times 75 \div 15 = ? \times 20$	(B) 284
95	$24^2 \div \sqrt{?} = 96$	(A) 6
96	$\frac{25}{?} = \frac{?}{100}$	(D) 50
97	એક સંખ્યાના 5 % 15 છે. તો તે સંખ્યા કઇ હશે ?	(D) 300
98	જો ચાર ડઝન નારંગીની કિંમત 80 રૂપિયા હોય, તો 3 નારંગીની કિંમત કેટલા રૂપિયા થાય ?	(C) Rs. 5
99	A, B અને C ની સરાસરી ઉંમર 25 વર્ષ છે, જો તેમની ઉંમર 3 : 5 : 7 હોય, તો A ની ઉંમર કેટલી હશે ?	(C) 15 વર્ષ
100	નીચેનામાંથી કોને હ્યુમન કમ્પ્યુટર તરીકેનું બિરુદ મળ્યું છે ?	(A) શકુંતલાદેવી
101	નીચેના પૈકી કઇ સંખ્યા અલગ પડે છે ?	(B) 73
102	સૂત્રોની મદદથી ગણતરી કરવાની અધ્યયન પદ્ધતિ એટલે ....	(D) નિગમન પદ્ધતિ
103	બે અંકની મોટામાં મોટી અવિભાજ્ય સંખ્યા કઇ છે ?	(D) 97
104	675 ને નાનામાં નાની કઇ સંખ્યા વડે ગુણવાથી તે પૂર્ણઘન બને ?	(C) 5
105	1 કિલોગ્રામ લીંબુનો ભાવ ₹ 30 છે. 3 લીંબુનું વજન 100 ગ્રામ છે, તો એક લીંબુની કિંમત કેટલી થશે ?	(C) ₹ 1
106	51 થી 60 વચ્ચે આવતી અવિભાજ્ય સંખ્યાનો સરવાળો _____ થાય ?	(B) 112
107	એક ગામમાં 820 કુટુંબ રહે છે. દરેક કુટુંબ ગામના વિકાસ માટે ₹ 60 ફાળો આપે છે.	(C) 6412
108	એક ગામમાં 820 કુટુંબ રહે છે. દરેક કુટુંબ ગામના વિકાસ માટે ₹ 60 ફાળો આપે છે. જો ₹ 42788 ખર્ચ થયો હોય, તો કેટલી રકમ બાકી રહે ?	(D) 24
109	12, 26, 54, 110, ?	(B) 222
110	એક સંખ્યાના 28 ટકા અને 40 ટકા વચ્ચેનો તફાવત 198 છે, તો તે સંખ્યા કઇ ?	(A) 1650
111	ત્રિકોણના એક ખૂણાનું માપ 85° છે, બાકીના બે ખૂણાઓના માપનો તફાવત 35° છે, તો બાકીના બે ખૂણાઓનાં માપ કયા હશે ?	(C) 65, 30
112	રેખિક જોડના ખૂણાઓની બાબતમાં શું સાચું નથી ?	(B) બે કિરણો વિરુદ્ધ ન હોય
113	1 થી 100 ની વચ્ચે કેટલી પૂર્ણ વર્ગ સંખ્યાઓ છે ?	(B) 8
114	28 સેમી વ્યાસવાળા વર્તુળનો પરિઘ _____ સેમી હોય.	(D) 88

No.	પ્રશ્ન	જવાબ
115	એક લંબચોરસની લંબાઈ તેની પહોળાઈ કરતાં $\frac{3}{2}$ ગણી છે, જો લંબચોરસની પરિમિતિ 40 સેમી હોય, તો તેની પહોળાઈ શોધો.	(A) 10
116	36 ના અવયવોની સંખ્યા કેટલી છે ?	(C) 9
117	2 કિમી 65 મીટર એટલે કેટલા કિલોમીટર ?	(B) 2.065
118		(A) 
119	ઘડિયાળનો એક કાંટો 2 ઉપર અને બીજો કાંટો 3 ઉપર રાખીએ, તો આ બે કાંટા વચ્ચે કેટલા અંશનો ખૂણો બને ?	(C) 30°
120	કાટકોણ ત્રિકોણના એક ખૂણાનું માપ 40° છે, તો બીજા બે ખૂણાના માપ કયા હશે ?	(D) 90°, 50°
121	પોષકશ્રેણીના પિરામીડની રચના કરતાં પિરામીડના સૌથી નીચેના ભાગે કઈ બાબત આવે છે ?	(A) ઉત્પાદક
122	ભારતનું સૌથી મોટું પક્ષીગૃહ (એવીયરી) ક્યાં આવેલું છે ?	(C) ઇન્દોરા પ્રકૃતિ ઉદ્યાન - ગુજરાત
123	સ્વચ્છ સર્વેક્ષણ - 2018 અંતર્ગત લીલા રંગની કચરા ટોપલીમાં નીચે પૈકી કઈ વસ્તુ નાખવાની હોય છે ?	(B) સડેલાં ફળ
124	ગુજરાતમાં પર્યાવરણ જાગૃતિ માટે કાર્યરત સંસ્થા પર્યાવરણ શિક્ષણ કેન્દ્ર (CEE) ક્યાં આવેલું છે ?	(D) અમદાવાદ
125	કયો વાયુ ગ્રીનહાઉસ વાયુ તરીકે ઓળખાતો નથી ?	(C) કાર્બન મોનોક્સાઇડ (CO)
126	' મારી આસપાસ ' નામનું પાઠ્યપુસ્તક કયા ધોરણના પર્યાવરણ વિષય માટેનું પાઠ્યપુસ્તક છે ?	(A) ધોરણ-3
127	ભારતનું સૌથી જૂનું પ્રાણી સંગ્રહાલય કયું છે ?	(D) શક્કરબાગ - જૂનાગઢ
128	મહાવીર સ્વામી જૈન ધર્મના કેટલામા તીર્થંકર છે ?	(B) ચોવીસમા
129	રાષ્ટ્રીય અભિલેખાગાર કયા શહેરમાં આવેલ છે ?	(A) દિલ્હી
130	' વિક્રમ સંવત ' નો આરંભ કયા રાજાએ કર્યો ?	(C) સમ્રાટ ચંદ્રગુપ્ત બીજો
131	' લાવણી ' નૃત્ય કયા રાજ્ય સાથે સંકળાયેલ છે ?	(D) મહારાષ્ટ્ર
132	વાસ્કો-દ-ગામા જે રસ્તે ભારત આવેલ, તે ' કેપ ઓફ ગુડ હોપ ' કયા ખંડમાં આવેલ છે ?	(B) આફ્રિકા
133	સૂર્ય સામેથી એક રેખાંશવૃત્તને પસાર થતાં કેટલો સમય લાગે છે ?	(A) 4 મિનિટ
134	સૂર્ય કિરણોના પરાવર્તનથી રચાતા રંગબેરંગી પદ્મઓ કયા નામે ઓળખાય છે ?	(C) સુમેરુજ્યોતિ (અરોરા)
135	બાળકોના જીવનની ગુણવત્તા સુધરે, યોગ્ય અને પોષણક્ષમ આહાર પ્રાપ્ત થાય એવા બાળકલ્યાણના કાર્યક્રમો નીચે પૈકી કઈ સંસ્થા કરે છે ?	(D) UNICEF (યુનિસેફ)
136	નીચેના પૈકી કયા સભ્યોને રાષ્ટ્રપતિની ચૂંટણીમાં મત આપવાનો અધિકાર પ્રાપ્ત થયેલ નથી ?	(D) વિધાન પરિષદના સભ્યો
137	આપણા બંધારણમાં 6 થી 14 વર્ષ સુધીના તમામ બાળકોને મફત અને ફરજિયાત શિક્ષણનો હક્ક આપતો અનુચ્છેદ 21-ક કયા બંધારણીય સુધારાથી દાખલ કરવામાં આવેલ છે ?	(A) 86 - મો બંધારણીય સુધારો- 2002
138	તાજેતરમાં ચર્ચામાં આવેલ ' બિટકોઇન ' એ શું છે ?	(B) ક્રિપ્ટો અથવા વર્ચ્યુઅલ કરન્સી છે
139	' ભૂપેન હઝારિકા સેતુ ' કયા બે રાજ્યોને જોડતો પુલ છે ?	(B) આસામ - અરુણાચલ પ્રદેશ
140	ફેબ્રુઆરીથી ઓગષ્ટ માસના સમયગાળા દરમિયાન રાત્રિ આકાશ દર્શન વડે વિદ્યાર્થીઓને કયા તારાજૂથનો પરિચય કરાવી શકાય ?	(C) સપ્તર્ષિ તારાજૂથ
141	ધોરણ-5 ના વર્ગ શિક્ષક તરીકે તમારા વર્ગના બાળકોને કઈ બાહ્ય પરીક્ષા અપાવી શકતા નથી ?	(D) નેશનલ મીન્સ કમ મેરીટ સ્કોલરશીપ પરીક્ષા

No.	પ્રશ્ન	જવાબ
142	તાજેતરમાં આવેલ 'ઓખી' નામના વાવાઝોડાએ અનેક સ્થળોએ નુકસાન પહોંચાડ્યું. આ વાવાઝોડાનું નામ 'ઓખી' કયા દેશે આપેલ છે ?	(C) બાંગ્લાદેશ
143	નીચે આપેલ રાજ્યપાલ અને રાજ્યની જોડી પૈકી કઈ જોડી યોગ્ય નથી ?	(D) બિહાર – રામનાથક
144	' ગોરખાલેન્ડ ' એ કયા રાજ્ય સંબંધી આંદોલન છે ?	(B) પશ્ચિમ બંગાળ
145	કેટલાન વાસીઓ દ્વારા ' કેટલાન ' વિસ્તારને મુક્ત કરવા કયા દેશમાં લડત ચલાવાઈ હતી ?	(B) સ્પેન
146	વડાપ્રધાનશ્રી દ્વારા ગુજરાતમાં કયા બે સ્થળો વચ્ચે સી-પ્લેન દ્વારા મુસાફરી કરવામાં આવેલી ?	(A) સાબરમતી રીવરફ્રન્ટથી ધરોઈ સરોવર (ડેમ)
147	શ્રી વિજય કૈશવ ગોખલેની તાજેતરમાં કયા પદ પર નિમણુંક કરવામાં આવી ?	(B) વિદેશ સચિવ
148	પંડિત દીનદયાળ ઉપાધ્યાયના સંદર્ભે કઈ બાબત ખરી નથી ?	(D) તેઓ શ્રમ અને રોજગાર મંત્રી રહી ચૂક્યા હતા.
149	શ્રી રામનાથ કોવિંદ એ દેશના કેટલામા રાષ્ટ્રપતિ છે ?	(C) 14 મા
150	ઇસરો દ્વારા વર્ષ - 2017 માં 104 ઉપગ્રહો સફળતાપૂર્વક પ્રક્ષેપિત કરી, સૌથી વધારે સેટેલાઇટ પ્રક્ષેપિત કરવાનો રેકર્ડ બનાવ્યો. આ ઉપગ્રહો કયા યાનની મદદથી પ્રક્ષેપિત કરાયા હતા ?	(D) PSLV C-37



**STATE EXAMINATION BOARD - GANDHINAGAR**

**TET-I EXAM-2018 (Exam Date : 04-03-2018) Provisional Answer Key (Publish Date : 06-03-2018)**

**(ENG.Med.)**

No.	પ્રશ્ન	જવાબ
1	" Creation of a sound mind in a sound body is Education " whose statement is this ?	(C) Aristotle
2	The child feels helpless when the child comes home leaving a cozy environment. What do you do as a teacher in relation to this statement ?	(A) I will work with love and affection with child.
3	Who is the father of New Education system ?	(D) Rousseau
4	Organisation of Educational Experiences means....	(B) Curriculum
5	Which of the following is not an individual Aims of Education ?	(B) Skillfulness in productive work
6	Which one of the following is not effected in comprehensive development of a child ?	(D) Climate
7	Which one of the following is not a group verbal test ?	(B) Give synonyms and antonyms
8	Which defence mechanism is generated when a person who dreams to become cricketer would feel proud of watching others who can play. That game quite well. He would at time boast of his own contribution in others successful result.	(D) identification
9	Which one of the following is not considered as : Essay type question.	(D) Language fluidity skills cannot be verified.
10	According to school comprehensive and contineous eavaluation, what is Patrak-E ?	(B) universal developmental
11	Who is the founder of social teaching theory ?	(C) Albert Bandura
12	Which one is the first component of the process of communication ?	(B) Sender
13	According to Human being. How many instinctiveness shown by Mc Dougall ?	(A) 18
14	Which one is not the characteristics of New National Education Policy-1986 ?	(B) Nationwide Equivalent Structure
15	Who define the word ' Microteaching ' first at 1968 ?	(C) Ellen and Eve.
16	' The teacher should organized education by adopting an independent personality and finesse of the children self and accepting its personality " - who gives such philosophy ?	(D) Gijubhai Badheka
17	According to Abraham Maslow's Hierarchical Needs theory which need comes at fourth order?	(C) Need for self esteem
18	Inclusive Education means....	(C) Arranging education for general and special children in same school premises.
19	Who is the chair person of GIET ?	(B) Secretary of Education Department
20	Where is the headquarter of NCERT situated ?	(D) New Delhi
21	" Intelligence means the ability to understand or apperception of mind to know about an object " - who quoted that.	(B) Sarth Gujarati Dictionary
22	In which disorder a child repeats the sentences again and again ?	(D) Autism
23	What is acts as reinforcement over the classical conditioning of Pavlov ?	(B) Food
24	Who is the founder of multiple intelligence ?	(A) Howard Gardner

No.	પ્રશ્ન	જવાબ
25	What will you do as a teacher if a student does aggressive behaviour in the class ?	(D) I am going to know the reason for the child's aggressive attitude.
26	Teacher's behaviour and conduct should be ideal because....	(C) He is the role model / ideal of students.
27	Which type of conflict is there, when man desire to marry, but is not prepared to shoulder the responsibility associated with marriage ?	(C) Approach - Avoidance conflict
28	What will you do as a teacher when a student is absent for a long time without informing you ?	(D) I inform the parent and discuss about the reason of absence of the child.
29	What was the IQ score of ' Borderline ' children ?	(C) 70 to 79
30	"Student start hating principal, teacher and school "which type of discipline is responsible for it ?	(A) Oppressive discipline
31	આપેલ વ્યંજનોમાં કયો વ્યંજન 'અનુનાસિક વ્યંજન' છે ?	(C) ણ
32	સંયુક્તાક્ષરના સંદર્ભમાં સાચો વિકલ્પ કયો છે ?	(B) જ્ + ઝ્ = ઙ
33	સાચી જોડણી કઈ છે ?	(B) અગસ્ત્ય
34	આપેલ શબ્દોમાં કયો શબ્દ 'સંજ્ઞા' છે ?	(A) ઊણપ
35	આપેલ વાક્યોમાં શુદ્ધ વાક્ય કયું છે ?	(C) મારી સરતયુદ્ધી તમને આમંત્રણ આપવાનું રહી ગયું.
36	અશુદ્ધ શબ્દ કયો છે ?	(A) નિંદ્રા
37	વિરામચિહ્નોનો સાચો ઉપયોગ થયો હોય તેવું વિધાન શોધો.	(C) રામ બોલ્યા, " પિતાની આજ્ઞા હું માથે ચડાવું છું. "
38	શબ્દકોશ ક્રમ મુજબ સાચો વિકલ્પ કયો છે ?	(B) ક્ષમા, જમાનો, જ્ઞાની, ટપાલી
39	ભાષાકીય રીતે શુદ્ધ શબ્દ કયો છે ?	(D) અંતર્ધાન
40	' મિજાજ તરડાવો ' રૂઢિપ્રયોગનો અર્થ શું થાય ?	(D) અભિમાન થવું.
41	વાક્યમાં રેખાંકિત પદ યોગ્ય રીતે વપરાયું હોય તેવું વિધાન કયું છે ?	(C) સૂર્ય એ ઉર્જાનો અખૂટ સ્ત્રોત છે.
42	આપેલ શબ્દોમાં 'સ્ત્રીલિંગ' શબ્દ કયો છે ?	(A) ઈબાદત
43	અર્થની દૃષ્ટિએ જુદો પડતો શબ્દ શોધો.	(D) આલેશાન
44	સમાનાર્થી જોડ સાચી ન હોય તેવો વિકલ્પ કયો છે ?	(A) ઓજશ - પ્રતિભા
45	આપેલ શબ્દોમાં કયો શબ્દ ' ક્રિયાપદ ' છે ?	(A) હતો
46	ગુજરાતી ભાષા શિક્ષણનો પ્રથમ હેતુ કયો છે ?	(D) અર્થગ્રહણ
47	' અધ્યેતા શબ્દકોશનો ક્રમ અને આશરે 1500 જેટલા શબ્દો જાણે અને સમજે. ' - આ અધ્યયન નિષ્પત્તિ કયા હેતુ આધારિત છે ?	(A) અર્થગ્રહણ
48	'પ્રવૃત્તિ દ્વારા શિક્ષણ' નાં ક્રમશઃ સોપનો મુજબ સાચો વિકલ્પ કયો છે ?	(C) અનુભવ, ચિંતન, ઉપયોજન, સંકલન
49	કવિતા એ _____ છે.	(B) કાનની કળા
50	વાચનનું મૂલ્યાંકન કરતી વખતે ધ્યાનમાં રાખવા જેવી બાબત કઈ છે ?	(A) વિરામચિહ્નોનો ખ્યાલ
51	વાચનના મૂલ્યાંકન માટે ઉપયોગી સાધન કયું છે ?	(A) ચેકલીસ્ટ
52	ઓછા સમયમાં વધુ ઝડપથી વાંચી શકાય છે....	(B) મૂક વાચન

No.	પ્રશ્ન	જવાબ
53	વ્યાકરણ શિક્ષણને ગમ્મત સાથે સમજાવવાની રીત એટલે...	(C) ચિત્રી દ્વારા શિક્ષણ
54	વ્યાકરણ શિક્ષણમાં ઉદાહરણની મદદથી સામાન્ય નિયમો તારવવાની ક્રિયા એટલે...	(D) આગમન પદ્ધતિ
55	સર્જનાત્મક લેખન વખતે શિક્ષકે કરવા યોગ્ય સૌથી મહત્વની બાબત કઈ છે ?	(A) લેખનકાર્ય અંગે વર્ગમાં વાતાવરણ નિર્માણ કરવું.
56	પાઠ્યપુસ્તકનું સ્વરૂપ અને ઉપયોગના માર્ગદર્શન માટે નીચે પૈકી શું મદદરૂપ બનશે ?	(D) શિક્ષક નિદર્શિની
57	વિદ્યાર્થીઓના લેખનકાર્યની ભૂલ સુધારવાનું કાર્ય વધુ અસરકારક ત્યારે બની શકે જ્યારે શિક્ષક....	(C) લેખન તપાસણીની સંજ્ઞાઓનો ઉપયોગ કરી ભૂલ નિર્દેશ કરે; જેના આધારે વિદ્યાર્થી સુધારકાર્ય કરે.
58	અક્ષર સુધારણા માટે નીચે જણાવેલ લેખન પૈકી કયા લેખનનો મહાવરો વધુ કરાવવો જોઈએ ?	(C) અનુલેખન
59	ભાષા શિક્ષણના મુખ્ય હેતુઓ પૈકી ' સર્જનાત્મકતા ' હેતુમાં નીચે જણાવેલ પૈકી કઈ બાબતનો સમાવેશ થતો નથી ?	(B) સારી-નરસી બાબતો અંગે ચિંતન કરી યોગ્ય નિર્ણય લે.
60	સ્વતંત્ર લેખનમાં સમાવેશ ન થતો હોય તેવી કઈ બાબત છે ?	(D) અનુલેખન કરવું.
61	કયો સાહિત્ય પ્રકાર ભણાવતી વખતે મુખવાચન પર વધુ ધ્યાન આપવું જોઈએ ?	(C) એકાંકી
62	Many students tried, but they failed to solve this sum. Here the underlined word : ' they failed ' means.....	(C) They were unsuccessful.
63	Find out correct spelling :	(B) Trouble
64	Students of Vivekanand Vidyalaya hopped to visit Saputara. Find out synonym of the underlined word.	(B) Wanted
65	Find out correct spelling :	(A) competition
66	Arrange the following words in correct order to make a correct sentence. A. best B. batsmen C. Sachin and Sehwag D. are	(C) CDAB
67	Mr. Pravinbhai Suthar is the host of the contest. Select correct antonym for the underlined word.	(A) Guest
68	_____ expert is _____ English teacher. Select proper pair of article.	(B) The, an
69	Find out improper chain of degree words :	(C) beautiful – more beautiful – best beautiful
70	Maheshwari and Durgaben visited a village fair _____ Vaodara and Ahmedabad. Select proper preposition.	(B) between
71	Arrange the following words in a dictionary order. 1. Count 2. Coins 3. Court 4. Courtier	(B) 2,1,3,4
72	Traffic police blew the whistle, _____ ? Find out proper question tag.	(D) didn't he
73	Find out the correct plural word of 'Knife'.	(C) Knives
74	The spelling of ' 40 ' is .....	(D) forty
75	Which one is the productive skill of the following ?	(D) Writing
76	Which of the following skill is also called an active receptive skill ?	(B) Listening
77	At the starting phase of oral work, we must focus on _____.	(C) fluency
78	The main objective of telling a story in the classroom is _____	(C) listening
79	At ten o'clock, Munni goes to school. Make a question using the word – 'When'.	(D) When does Munni go to school ?

No.	પ્રશ્ન	જવાબ
80	Which one of the following is an objective of English language teaching ?	(B) Expression
81	Which thing is important for English language teaching at starting phase ?	(C) Too much practice of listening.
82	They play with a ball in the garden. Make a question using the word – ‘ where ’.	(C) Where do they play with a ball ?
83	Tejasvini’s bicycle has a soft seat. Find out the antonym of the word ‘ soft ’	(A) Hard
84	The king set three difficult tests for princes. _____ tests did the king set for princes ? Select proper question word.	(C) How many
85	A person who keeps the record of points in a quiz is called...	(C) Scorer
86	Which word can’t be made by using letters of the word- ‘ Innovations ’?	(C) Invocations
87	Find out unmatched pair of synonyms.	(C) Strong - hard
88	Vandevi grants babool’s wish. Choose proper synonym for the underlined word.	(C) permits
89	The leaves of the babool tree changed into golden leaves. Here the word – ‘ changed into ’ means...	(B) turned into
90	A knowledgeable person is also called....	(D) an expert
91	If $\frac{4}{5}$ th part of a number is 64. Find the half of that number.	(C) 40
92	What is the L.C.M. of two successive number ?	(B) equal to the sum of both the number
93	If we subtract 8 from a number and then multiply it by 8, the result is 8, find the number.	(D) 9
94	$1136 \times 75 \div 15 = ? \times 20$	(B) 284
95	$24^2 \div \sqrt{?} = 96$	(A) 6
96	$\frac{25}{?} = \frac{?}{100}$	(D) 50
97	If 5 % of a number is 15. Find the number ?	(D) 300
98	If the cost of 4 dozen oranges are Rs.80, then find the cost of 3 oranges.	(C) Rs. 5
99	If average age of A, B, & C is 25. If the ratio of their age is 3 : 5 : 7, find the age of A.	(C) 15 years
100	Who is awarded by Human Computer ?	(A) Shankuntala Devi
101	Which Numeral is different than others ?	(B) 73
102	Which study method is calculated from the help of formulas ?	(D) Deductive Method
103	Find the biggest two digit indivisible number ?	(D) 97
104	Find the smallest number by which 675 must be multiplied to obtain a perfect cube.	(C) 5
105	The cost of 1 kg of Lemon is Rs.30. If the weight of 3 Lemon is 100 gms. Find the cost of 1 Lemon ?	(C) Rs. 1
106	What is the sum of indivisible numbers between 50 to 60 ?	(B) 112
107	There are 820 families in a village. Each family contribute Rs.60 for the development programme of village. If the expense is Rs.42788, How much will rest ?	(C) 6412

No.	પ્રશ્ન	જવાબ
108	Average of four successive numbers is 22.5, find the bigger number.	(D) 24
109	12, 26, 54, 110, ?	(B) 222
110	The difference between 28 % and 40 % of a number is 198, find that number ?	(A) 1650
111	The measure of an angle of a triangle is 85°. Difference between the measure of two angle is 35°, find the actual measure of rest two angles.	(C) 65°, 30°
112	Which of the following statement is not true for linear pair of angles ?	(B) Two rays are not opposite rays.
113	How many perfect numbers are there between 1 to 100.	(B) 8
114	Find the circumference of circle with diameter 28 cm.	(D) 88
115	The length of a rectangle is $\frac{3}{2}$ times to its breadth. The perimeter of rectangle is 40 cm, find the breadth.	(A) 10
116	How many factors are there in 36.	(C) 9
117	How many kilometers are there in 2 km 65 meter.	(B) 2.065
118		
119	If the minute hand is placed on 2 and hour hand is placed on 3 in a clock. How many degrees angle forms between them.	(C) 30°
120	The measure of an angle of a right angled triangle is 40°. Find the measures of rest two angles.	(D) 90°, 50°
121	Which of the following is situated at the bottom of food chain pyramid ?	(A) Producers
122	Where is the biggest aviary of India situated ?	(C) Indroda - sanctuary Gandhinagar
123	Which type of rubbish is dumped into green coloured dustbin under cleanliness mission of 2018.	(B) Deceyed fruits
124	Where is the a "Center for Environment Education" (CEE), works for environmental awareness, situated ?	(D) Ahmedabad
125	Name the Gas which is not considered as Green house Gas ?	(C) Carbon monoxide (CO)
126	In which standard, the book " My Surrounding " is considered as the text book of environment.	(A) Standard-3
127	Which is the oldest zoo of India ?	(D) Shakerbaugh - Junagarh
128	Which number of Tirthankar was Mahavir swami of Jain religion ?	(B) Twenty forth
129	In which city " The National Archives " is situated.	(A) Delhi
130	Who started Vikram Samvat ?	(C) Emperor Chandragupt - II
131	Which state is related to ' Lavani ' dance ?	(D) Maharashtra
132	Cap of good hope ', which came during the journey of Vasco-Da-Gama. In which continent is it situated ?	(B) Africa
133	How much time does the longitude take to pass from the sun ?	(A) 4 Minuts

No.	પ્રશ્ન	જવાબ
134	Name the colourful light seen in the sky due to relection of sunrays ?	(C) Sumeru Jyoti (Aurora Australis)
135	Which organization works for the children welfare programmes like to provide good standard of living and nutritious food ?	(D) UNICEF
136	Which of the following does not have right to vote for the President election ?	(D) Member of Legislative Council
137	According to constitutional article 21-K, children during 6 to 14 years have right of free and compulsory education. Under which constitutional amendment is it included ?	(A) Constitutional Amendment of 86 of 2002
138	Now a days " Bitcoin " is recent discussion. Wha is it ?	(B) Cripto or Vertual Currency
139	Which two states does Bhupen Hazarika setu connect ?	(B) Assam - Arunachal Pradesh
140	Which cluster of stars can be introduce to the student during the nights of February to August?	(C) Saptarshi
141	Which extra exams cannot be appear by you for your standard as the class teacher of std-5 ?	(D) National means cum marit scholarship exam
142	Okhi ' cyclone was spoiled many of the places. Which country give the name of such cyclone?	(C) Bangladesh
143	Which of the following pairs is wrong considering the Governors and states ?	(D) Bihar - Ram Naik
144	Which state is related with ' Gorakhaland ' movement ?	(B) West Bengal
145	In which country, the struggle had started to make ' Ketlan ' free by Ketlanians ?	(B) Spen
146	Which two places did the prime-minister travel by sea plane ?	(A) Sabarmati river front to Dharoi lake dam
147	On which post was Shri Vijay Keshav Gokhale appointed ?	(B) Foreign Secretary
148	Which statement is not correct about Pandit Dindayal Upadhyay ?	(D) He became a labour and employment minister
149	At what number Shri Ramnath Kovind as the presedent ?	(C) 14 th
150	ISRO was launches 104 satellites successfully in the year of 2017 and established the highest satellite launching record. Name the launcher which was used to launch the satellites ?	(D) PSLV C-37

STATE EXAMINATION BOARD - GANDHINAGAR

TET-I EXAM-2018 (Exam Date : 04-03-2018) Provisional Answer Key (Publish Date : 06-03-2018)

(HINDI.Med.)

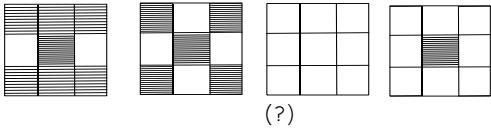
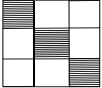
No.	प्रश्न	जवाब
1	"स्वस्थ शरीर में मन को गढ़ना ही शिक्षण है।" यह कथन किसका है ?	(C) एरिस्टोटल
2	"बालक घरका स्नेहपूर्ण वातावरण छोड़कर पाठशाला में आता है एवं अपने आप को असहाय पाता है।" इस कथन के संदर्भ में एक शिक्षक के रूप में आप क्या करेंगे ?	(A) बालक से प्रेमपूर्वक एवं ऊष्मापूर्ण व्यवहार से काम लेंगे।
3	नूतन शिक्षण के पिता के रूप में किसे जाना जाता है ?	(D) रुसो
4	शैक्षणिक अनुभवों का संगठन अर्थात्...	(B) अभ्यासक्रम
5	शिक्षा के उद्देश्यों में से किस उद्देश्य का समावेश व्यक्तिगत उद्देश्यों में नहीं होता है ?	(B) उत्पादक कार्यों में कौशल्य
6	निम्न लिखित में से कौन सा घटक (कारक) बालक के सर्वांगी विकास में असर कर्ता नहीं है ?	(D) जलवायु
7	निम्नलिखित में से कौन सी कसौटी शाब्दिक समूह कसौटी नहीं है ?	(B) पर्यायवाची-विरुद्धार्थी शब्द बताना
8	"क्रिकेटर बनने का स्वप्न सजाने वाला व्यक्ति अन्य अच्छे क्रिकेटर का खेल देखकर दूसरे की सफलता को अपने श्रम का परिणाम मानकर बड़े उत्साह से बड़ाई करता है। "यह किस बचाव प्रयुक्ति का उदाहरण है ?"	(D) तादात्म्य
9	निबंधलक्षी प्रश्नों के संदर्भ में क्या गलत है ?	(D) धाराप्रवाह भाषा कौशल्य की जाँच नहीं हो सकती है।
10	शालाकीय सर्वग्राही मूल्यांकन में पत्रक-E अर्थात्...	(B) सर्वग्राही विकासात्मक संग्रहित प्रगतिपत्रक
11	सामाजिक अध्ययन का सिद्धांत प्रतिपादित करनेवाले मनोवैज्ञानिक का नाम बताइए ?	(C) आल्बर्ट बान्दुरा
12	संचार व्यवस्था (प्रत्यायन) का प्रथम कारक चुनिए।	(B) प्रेषक
13	मनुष्य प्रकृति के संदर्भ में मेकडुगल द्वारा दर्शाई गई सहजवृत्तियों की संख्या बताइए।	(A) 18
14	निम्न में से किस लाक्षणिकता का समावेश नई राष्ट्रीय शिक्षण नीति-1986 में नहीं होता है ?	(B) एकसमान मूल्यांकन का राष्ट्रव्यापी ढाँचा।
15	सर्व प्रथम सन् 1968 में माइक्रोटीचींग की व्याख्या किसने दी थी ?	(C) एलन और इव
16	" प्रत्येक बालक का अपना स्वतंत्र व्यक्तित्व है। शिक्षक को शिक्षण का आयोजन बालकों के 'स्व' को अर्थात् स्वतंत्र व्यक्तित्व को पहचानकर ही करना चाहिए। " यह किसका शिक्षण दर्शन है ?	(D) गीजुभाई बधेका
17	अब्राहम मेस्लो के आवश्यकता श्रेणी क्रम में चौथे क्रम में किसका उल्लेख है ?	(C) आत्मगौरव की आवश्यकता
18	समावेशी शिक्षण (Inclusive Education) अर्थात्...	(C) एक ही शाला परिसर में सामान्य बालकों के साथ ही विशिष्ट बालकों को शिक्षा प्रदान करना
19	GIET के चेरमेन के रूप में कौन कार्यरत हैं ?	(B) शिक्षा विभाग के सचिव
20	NCERT का प्रधान कार्यालय कहाँ स्थित है ?	(D) नई-दिल्ली
21	" बुद्धि अर्थात् वस्तु को पहचानना, चित्त का आकलन या समझ शक्ति " - किसका कथन है ?	(B) सार्थ गुजराती शब्द कोश
22	" बालक अक्सर वाक्यों का पुनः उच्चारण करता है। " यह किस प्रकार की मनोविकृति है ?	(D) ओटिज्म
23	पावलोव के अभिसंधान प्रयोग में प्रबलन के रूप में क्या है ?	(B) भोजन

No.	પ્રશ્ન	જવાબ
24	કિસ વૈજ્ઞાનિક ને બહુવિધ બુદ્ધિ કા સિદ્ધાંત પ્રતિપાદિત કિયા હૈ ?	(A) હાવર્ડ ગાર્ડનર
25	બાલક આક્રમક મુદ્રા ધારણ કરતા હૈ । એક શિક્ષક કે રુપ મૈં આપ કયા કરૈંગે ?	(D) બાલક કી આક્રમક મુદ્રા કા કારણ જાનૈંગે ।
26	શિક્ષક કા આચરણ આદર્શ હોના યાહિયે કારણ કિ...	(C) છાત્ર શિક્ષક કો અનુકરણીય માનતે હૈં ।
27	શાદી કરના હૈ પરન્તુ શાદી સે જુડી જિમ્મેદારિયોં કા વહન પસંદ નહી હૈ । એસે સમય મૈં વ્યક્તિ કિસ પ્રકાર કે સંઘર્ષ સે ગુજરતા હૈ ?	(C) અભિગમન-વિગમન સંઘર્ષ
28	કોઈ વિદ્યાર્થી શિક્ષક કી અનુમતિ કે બગૈર લંબે સમય તક અનુપસ્થિત રહતા હૈ । એક શિક્ષક કે રુપ મૈં આપ કયા કરૈંગે ।	(D) અભિભાવક કો વિદ્યાર્થી કી ગૈરહાજરી કી જાનકારી દૈંગે ।
29	સીમાવર્તી બુદ્ધિઆંક વાલે બચોં કા બુદ્ધિઆંક કિતના હોતા હૈ ?	(C) 70 સે 79
30	વિદ્યાર્થીયોં મૈં મુખ્ય શિક્ષક, શિક્ષક ંવં શાલા કે પ્રતિ નફરત કા ભાવ જાગ્રત હોતા હૈ । ઇસકે લિયે કિસ પ્રકાર કા અનુશાસન જિમ્મેદાર હૈ ?	(A) દમનયુક્ત અનુશાસન
31	આપેલ વ્યંજનોમાં કયો વ્યંજન 'અનુનાસિક વ્યંજન' છે ?	(C) ણ
32	સંયુક્તાક્ષરના સંદર્ભમાં સાચો વિકલ્પ કયો છે ?	(B) જ + ઝ = ઙ
33	સાચી જોડણી કઇ છે ?	(B) અગસ્ત્ય
34	આપેલ શબ્દોમાં કયો શબ્દ 'સંજ્ઞા' છે ?	(A) ઊણપ
35	આપેલ વાક્યોમાં શુદ્ધ વાક્ય કયું છે ?	(C) મારી સરતચૂકથી તમને આમંત્રણ આપવાનું રહી ગયું.
36	અશુદ્ધ શબ્દ કયો છે ?	(A) નિંદ્રા
37	વિરામચિહ્નોનો સાચો ઉપયોગ થયો હોય તેવું વિધાન શોધો.	(C) રામ બોલ્યા, " પિતાની આજ્ઞા હું માથે યડાવું છું. "
38	શબ્દકોશ ક્રમ મુજબ સાચો વિકલ્પ કયો છે ?	(B) ક્ષમા, જમાનો, જ્ઞાની, ટપાલી
39	ભાષાકીય રીતે શુદ્ધ શબ્દ કયો છે ?	(D) અંતર્ધાન
40	' મિજાજ તરડાવો ' રૂઢિપ્રયોગનો અર્થ શું થાય ?	(D) અભિમાન થવું.
41	વાક્યમાં રેખાંકિત પદ યોગ્ય રીતે વપરાયું હોય તેવું વિધાન કયું છે ?	(C) સૂર્ય એ ઉર્જાનો અખૂટ સ્ત્રોત છે.
42	આપેલ શબ્દોમાં 'સ્ત્રીલિંગ' શબ્દ કયો છે ?	(A) ઈબાદત
43	અર્થની દૃષ્ટિએ જુદો પડતો શબ્દ શોધો.	(D) આલેશાન
44	સમાનાર્થી જોડ સાચી ન હોય તેવો વિકલ્પ કયો છે ?	(A) ઓજશ – પ્રતિભા
45	આપેલ શબ્દોમાં કયો શબ્દ ' ક્રિયાપદ ' છે ?	(A) હતો
46	ગુજરાતી ભાષા શિક્ષણનો પ્રથમ હેતુ કયો છે ?	(D) અર્થગ્રહણ
47	' અધ્યેતા શબ્દકોશનો ક્રમ અને આશરે 1500 જેટલા શબ્દો જાણે અને સમજે. ' – આ અધ્યયન નિષ્પત્તિ કયા હેતુ આધારિત છે ?	(A) અર્થગ્રહણ
48	'પ્રવૃત્તિ દ્વારા શિક્ષણ' નાં ક્રમશઃ સોપનો મુજબ સાચો વિકલ્પ કયો છે ?	(C) અનુભવ, ચિંતન, ઉપયોજન, સંકલન
49	કવિતા એ _____ છે.	(B) કાનની કળા
50	વાચનનું મૂલ્યાંકન કરતી વખતે ધ્યાનમાં રાખવા જેવી બાબત કઈ છે ?	(A) વિરામચિહ્નોનો ખ્યાલ



No.	પ્રશ્ન	જવાબ
51	વાચનના મૂલ્યાંકન માટે ઉપયોગી સાધન કયું છે ?	(A) ચેકલીસ્ટ
52	ઓછા સમયમાં વધુ ઝડપથી વાંચી શકાય છે....	(B) મૂક વાચન
53	વ્યાકરણ શિક્ષણને ગમ્મત સાથે સમજાવવાની રીત એટલે...	(C) ચિટ્ટી દ્વારા શિક્ષણ
54	વ્યાકરણ શિક્ષણમાં ઉદાહરણની મદદથી સામાન્ય નિયમો તારવવાની ક્રિયા એટલે...	(D) આગમન પદ્ધતિ
55	સર્જનાત્મક લેખન વખતે શિક્ષકે કરવા યોગ્ય સૌથી મહત્વની બાબત કઈ છે ?	(A) લેખનકાર્ય અંગે વર્ગમાં વાતાવરણ નિર્માણ કરવું.
56	પાઠ્યપુસ્તકનું સ્વરૂપ અને ઉપયોગના માર્ગદર્શન માટે નીચે પૈકી શું મદદરૂપ બનશે ?	(D) શિક્ષક નિદર્શિની
57	વિદ્યાર્થીઓના લેખનકાર્યની ભૂલ સુધારવાનું કાર્ય વધુ અસરકારક ત્યારે બની શકે જ્યારે શિક્ષક....	(C) લેખન તપાસણીની સંજ્ઞાઓનો ઉપયોગ કરી ભૂલ નિર્દેશ કરે; જેના આધારે વિદ્યાર્થી સુધારકાર્ય કરે.
58	અક્ષર સુધારણા માટે નીચે જણાવેલ લેખન પૈકી કયા લેખનનો મહાવરો વધુ કરાવવો જોઈએ ?	(C) અનુલેખન
59	ભાષા શિક્ષણના મુખ્ય હેતુઓ પૈકી ' સર્જનાત્મકતા ' હેતુમાં નીચે જણાવેલ પૈકી કઈ બાબતનો સમાવેશ થતો નથી ?	(B) સારી-નરસી બાબતો અંગે ચિંતન કરી યોગ્ય નિર્ણય લે.
60	સ્વતંત્ર લેખનમાં સમાવેશ ન થતો હોય તેવી કઈ બાબત છે ?	(D) અનુલેખન કરવું.
61	કયો સાહિત્ય પ્રકાર ભણાવતી વખતે મુખવાચન પર વધુ ધ્યાન આપવું જોઈએ ?	(C) એકાંકી
62	Many students tried, but they failed to solve this sum. Here the underlined word : ' they failed ' means.....	(C) They were unsuccessful.
63	Find out correct spelling :	(B) Trouble
64	Students of Vivekanand Vidyalaya hopped to visit Saputara. Find out synonym of the underlined word.	(B) Wanted
65	Find out correct spelling :	(A) competition
66	Arrange the following words in correct order to make a correct sentence. ૧. best B. batsmen C. Sachin and Sehwag D. are	(C) CDAB
67	Mr. Pravinbhai Suthar is the host of the contest. Select correct antonym for the underlined word.	(A) Guest
68	_____ expert is _____ English teacher. Select proper pair of article.	(B) The, an
69	Find out improper chain of degree words :	(C) beautiful – more beautiful – best beautiful
70	Maheshwari and Durgaben visited a village fair _____ Vaodara and Ahmedabad. Select proper preposition.	(B) between
71	Arrange the following words in a dictionary order. 1. Count 2. Coins 3. Court 4. Courtier	(B) 2,1,3,4
72	Traffic police blew the whistle, _____ ? Find out proper question tag.	(D) didn't he
73	Find out the correct plural word of 'Knife'.	(C) Knives
74	The spelling of ' 40 ' is .....	(D) forty
75	Which one is the productive skill of the following ?	(D) Writing
76	Which of the following skill is also called an active receptive skill ?	(B) Listening

No.	प्रश्न	जवाब
77	At the starting phase of oral work, we must focus on _____.	(C) fluency
78	The main objective of telling a story in the classroom is _____	(C) listening
79	At ten o'clock, Munni goes to school. Make a question using the word – 'When'.	(D) When does Munni go to school ?
80	Which one of the following is an objective of English language teaching ?	(B) Expression
81	Which thing is important for English language teaching at starting phase ?	(C) Too much practice of listening.
82	They play with a ball in the garden. Make a question using the word – 'where'.	(C) Where do they play with a ball ?
83	Tejasvini's bicycle has a soft seat. Find out the antonym of the word 'soft'	(A) Hard
84	The king set three difficult tests for princes. _____ tests did the king set for princes ? Select proper question word.	(C) How many
85	A person who keeps the record of points in a quiz is called...	(C) Scorer
86	Which word can't be made by using letters of the word- 'Innovations' ?	(C) Invocations
87	Find out unmatched pair of synonyms.	(C) Strong - hard
88	Vandevi grants babool's wish. Choose proper synonym for the underlined word.	(C) permits
89	The leaves of the babool tree changed into golden leaves. Here the word – 'changed into' means...	(B) turned into
90	A knowledgeable person is also called....	(D) an expert
91	एक संख्या का $\frac{4}{5}$ भाग 64 होता है तो उस संख्या का आधा ज्ञात कीजिए।	(C) 40
92	दो क्रमिक संख्याओं का ल.सा.अ. कितना होगा ?	(B) दोनों के गुणनफल के बराबर
93	एक संख्या में से 8 घटाकर 8 से गुणा करने पर 8 मिलता है। वह संख्या बताइए।	(D) 9
94	$1136 \times 75 \div 15 = ? \times 20$	(B) 284
95	$24^2 \div \sqrt{?} = 96$	(A) 6
96	$\frac{25}{?} = \frac{?}{100}$	(D) 50
97	एक संख्या का 5 % = 15 है तो वह संख्या ज्ञात कीजिए।	(D) 300
98	यदि चार दर्जन नारंगी का मूल्य ₹ 80 हो तो 3 नारंगी का मूल्य कितना होगा ?	(C) ₹ 5
99	यदि A, B और C की औसत उम्र 25 वर्ष हो और उनकी उम्र 3 : 5 : 7 हो तो A की उम्र कितने वर्ष होगी ?	(C) वर्ष 15
100	ह्युमन कोम्प्युटर' की उपाधि से किसे नवाजा गया है ?	(A) शकुंतला देवी
101	निम्नलिखित में से कौन सी संख्या भिन्न है ?	(B) 73
102	किस अध्ययन पद्धति में सूत्रों की सहायता से गणना की जाती है ?	(D) निगमन पद्धति
103	दो अंको की बड़ी से बड़ी अविभाज्य संख्या बताइए।	(D) 97

No.	प्रश्न	जवाब
104	675 को किस छोटी से छोटी संख्या से गुणा करने पर वह संख्या पूर्णघन बनेगी ?	(C) 5
105	1 किलोग्राम नीबू का भाव ₹ 30 है। यदि 3 नीबू का वजन 100 ग्राम हो तो एक नीबू की कीमत क्या होगी ?	(C) ₹ 1
106	51 से 60 के बीच की अविभाज्य संख्याओं का योग _____ होगा।	(B) 112
107	एक गाँव में 820 परिवार रहते हैं। प्रत्येक परिवार गाँव के विकास के लिए ₹ 60 चन्दा देता है। यदि ₹ 42788 खर्च हुआ हो तो कितनी रकम बाकी बचेगी ?	(C) 6412
108	चार क्रमिक संख्याओं का औसत 22.5 हो तो सबसे बड़ी संख्या ज्ञात कीजिए।	(D) 24
109	12, 26, 54, 110, ?	(B) 222
110	एक संख्या के 28 % एवं 40 % के बीच का अंतर 198 है तो वह संख्या ज्ञात कीजिए।	(A) 1650
111	त्रिमुख के एक कोण का माप $85^\circ$ है। शेष दो कोणों के मापों का अंतर $35^\circ$ हो तो शेष दो कोणों का माप कितना होगा।	(C) $65^\circ$ , $30^\circ$
112	रैखिक युग्म कोण के संदर्भ में गलत कथन चुनिए।	(B) दो किरणें विरुद्ध किरणें नहीं होती हैं।
113	1 से 100 के बीच कितनी पूर्णवर्ग संख्याएँ हैं ?	(B) 8
114	28 सेमी व्यास वाले वृत्त की परिधि _____ सेमी होगी।	(D) 88
115	एक आयत की लंबाई उसकी चौड़ाई से $\frac{3}{2}$ गुनी है। यदि आयत की परिमिति 40 सेमी हो तो उसकी चौड़ाई ज्ञात कीजिए।	(A) 10
116	36 के अवयवों की संख्या कितनी है ?	(C) 9
117	2 किमी 65 मीटर अर्थात् कितने किलोमीटर ?	(B) 2.065
118	 (?)	 (A)
119	घड़ी की एक सुई को 2 पर एवं दूसरी सुई को 3 पर रखा जाय तो इन दो सुइयों के बीच कितने अंश का कोण बनेगा ?	(C) $30^\circ$
120	समकोण त्रिमुख के एक कोण का माप $40^\circ$ हो तो शेष दो कोणों का माप कितना होगा ?	(D) $90^\circ$ , $50^\circ$
121	पोषक श्रेणी के पिरामिड की रचना में सबसे नीचे क्या आया ?	(A) उत्पादक
122	भारत का सबसे बड़ा पक्षीगृह (एवीयरी) कहाँ स्थित है ?	(C) इन्द्रोदा प्रकृति उद्यान – गुजरात
123	स्वच्छ सर्वेक्षण – 2018 के तहत हरे रंग के कूड़ादान में निम्न में से कौन सी वस्तु डाली जाएगी ?	(B) सड़े हुए फल
124	गुजरात में पर्यावरण जागृति के लिए कार्यरत संस्था पर्यावरण शिक्षण केन्द्र (CEE) कहाँ स्थित है ?	(D) अहमदाबाद
125	ग्रीन हाउस गैस ' ' के रूप में न पहचाने जानेवाली गैस का नाम बताइए ?	(C) कार्बन मोनोक्साइड (CO)
126	पर्यावरण के विषय में ' मेरे आसपास ' नामक पाठ्यपुस्तक किस कक्षा के लिए है ?	(A) कक्षा-3
127	भारत का सबसे पुराना चिडियाघर कौन-सा है ?	(D) शंकरबाग – जूनागढ़

No.	प्रश्न	जवाब
128	महावीर स्वामी जैन धर्म के कौन से तीर्थंकर हैं ।	(B) चौबीसवें
129	राष्ट्रीय अभिलेखागार किस शहर में स्थित है ?	(A) दिल्ली
130	' विक्रम संवत् ' का प्रारंभ किस राजा ने किया था ?	(C) सम्राट चंद्रगुप्त द्वितीय
131	' लावणी ' नृत्य किस राज्य से संबंधित है ?	(D) महाराष्ट्र
132	वास्को-द-गामा जिस रास्ते से भारत आया था, वह ' केप ओफ गुड होप ' किस महाद्विप में स्थित है ?	(B) आफ्रिका
133	सूर्य के सामने से एक देशान्तरवृत्त को गुजरने में कितना समय लगता है ?	(A) 4 मिनट
134	सूर्य किरणों के परावर्तन से रचित रंगीन पट्टे किस नाम से जाने जाते हैं ?	(C) सुमेरुज्योति (अरोरा)
135	बच्चों के जीवन का स्तर सुधरे, उन्हें योग्य पोषणक्षम आहार प्राप्त हो ऐसे बालकल्याण के कार्यक्रम कौन सी संस्था करती है ?	(D) UNICEF ( यूनिसेफ )
136	निम्न में से किन सदस्यों को राष्ट्रपति चुनाव में मत देने का अधिकार नहीं है ?	(D) विधान परिषद के सदस्य
137	हमारे संविधान में 6 से 14 वर्ष के सभी बच्चों को मुफ्त एवं अनिवार्य शिक्षा का अधिकार प्राप्त करानेवाला अनुच्छेद 21-क, किस संवैधानिक सुधार के तहत शामिल किया गया है ?	(A) 86 – वाँ संवैधानिक सुधार- 2002
138	हाल में बहुचर्चित ' बिटकोइन ' क्या है ?	(B) क्रिप्टो या वर्चुअल करेंसी है ।
139	' भूपेन हजारिका सेतु ' किन दो राज्यों को जोड़नेवाला पुल है ?	(B) आसाम – अरुणाचल प्रदेश
140	फरवरी से अगस्त मास के समयकाल के दौरान रात्री आकाश दर्शन की सहायता से छात्रों को किस तारासमूह का परिचय करवाया जा सकता है ?	(C) सर्षि तारासमूह
141	कक्षा-5 के वर्ग शिक्षक के रूप में आप अपनी कक्षा के छात्रों को कौन सी बाह्य परीक्षा नहीं दिला सकते हैं ?	(D) नेशनल मीन्स कम मेरिट स्कोलरशिप परीक्षा
142	अभी कुछ समय पहले आए हुए ' ओरखी ' नामक तूफान ने अनेकों स्थानों को तबाह कर दिया । इस तूफान का नामकरण किस देश ने किया था ?	(C) बांग्लादेश
143	निम्नलिखित राज्यपाल एवं राज्यों के युग्म में से गलत युग्म पहचानिए ।	(D) बिहार – राम नाइक
144	' गोरखालेण्ड ' किस राज्य से संबंधित आंदोलन है ?	(B) पश्चिम बंगाल
145	केटलान वासियों के द्वारा ' केटलान ' विस्तार को मुक्त करवाने हेतु किस देश में आंदोलन किया गया ?	(B) स्पेन
146	प्रधानमंत्री ने गुजरात के किन दो स्थानों के बीच सी-प्लेन के द्वारा सफर किया था ?	(A) साबरमती रीवरफ्रंट से धरोई सरोवर (डेम)
147	श्री विजय केशव गोखले को हाल ही में किस पद पर नियुक्ति किया गया है ?	(B) विदेश सचिव
148	पंडित दीनदयाल उपाध्याय के संदर्भ में गलत कथन चुनिए:	(D) वे श्रम एवं रोजगार मंत्री के रूप में कार्य कर चुके थे ।
149	श्री रामनाथ कोविंद देश के कौन से राष्ट्रपति हैं ?	(C) 14 वें
150	इसरो ने वर्ष - 2017 में 104 उपग्रहों का सफल प्रक्षेपण करके सर्वाधिक सेटेलाइट प्रक्षेपण का रिकार्ड प्रास्थापित किया । ये उपग्रह किस यान की सहायता से प्रक्षेपित किए गये थे ?	(D) P S L V C -37